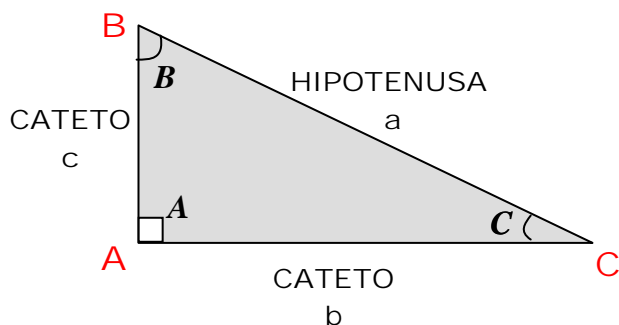


MATEMÁTICA

Relações Trigonométricas no Triângulo Retângulo

TRIÂNGULO RETÂNGULO:



Teorema de Pitágoras:

$a \rightarrow$ hipotenusa

$\left. \begin{matrix} b \\ c \end{matrix} \right\} \rightarrow$ catetos

$$a^2 = b^2 + c^2$$

Soma dos ângulos internos de um polígono:

$Sp = 180 \cdot (n - 2) \rightarrow$ Em que n é o número de lados

$$\begin{cases} A + B + C = 180^\circ \\ B + C = 90^\circ \end{cases}$$

- Quando a soma de dois ângulos é igual a 90° dizemos que eles são complementares, portanto:

B e C são ângulos complementares

Neste caso, as funções são iguais às co-funções

- $Sen B = Cos C$
- $Cos B = Sen C$

Relações primitivas:

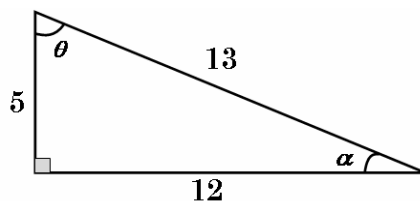
01. Seno
02. Cosseno

Relações derivadas:

01. Tangente
02. Cotangente
03. Secante
04. Cossecante

$Sen \hat{A} = \frac{\text{cateto oposto a } \hat{A}}{\text{hipotenusa}}$	$Cos \hat{A} = \frac{\text{cateto oposto a } \hat{A}}{\text{hipotenusa}}$
$Tg \hat{A} = \frac{\text{cateto oposto a } \hat{A}}{\text{cateto adjacente a } \hat{A}}$	$Cotg \hat{A} = \frac{\text{cateto adjacente a } \hat{A}}{\text{cateto oposto a } \hat{A}}$
$Sec \hat{A} = \frac{\text{hipotenusa}}{\text{cateto adjacente a } \hat{A}}$	$Cos sec \hat{A} = \frac{\text{hipotenusa}}{\text{cateto oposto a } \hat{A}}$

Exemplo:



Relações recíprocas

$$Sen \theta = \frac{1}{Cos sec \theta} \Rightarrow Sen \theta \cdot Cos sec \theta = 1$$

$$Cos \theta = \frac{1}{Sec \theta} \Rightarrow Cos \theta \cdot Sec \theta = 1$$

$$Tg \theta = \frac{1}{Cotg \theta} \Rightarrow Tg \theta \cdot Cotg \theta = 1$$

Exemplo:

$$\frac{1}{Sen 36^\circ} = Cos sec 36^\circ \quad \frac{1}{Cos 30^\circ} = Sec 30^\circ$$

$$Sen \beta \cdot Cos sec 36^\circ = 1 \Rightarrow \beta = \boxed{}$$

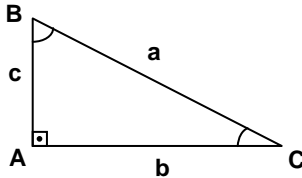
$$Tg 48^\circ \cdot Cotg \alpha^\circ = 1 \Rightarrow \alpha = \boxed{}$$

Propriedade dos ângulos complementares:

Se α e θ são complementares, temos:

1- TRIÂNGULO RETÂNGULO

TRIÂNGULO RETÂNGULO é aquele que possui um ângulo reto (90°). Dizemos que o triângulo a seguir é retângulo em A, veja:



Onde:
a é a hipotenusa (maior lado);
b e **c** são os catetos (formam o ângulo reto);
 \hat{B} e \hat{C} são ângulos agudos complementares, isto é,
 $\hat{B} + \hat{C} = 90^\circ$;

2- RAZÕES TRIGONOMÉTRICAS NO TRIÂNGULO RETÂNGULO

No TRIÂNGULO RETÂNGULO ABC são válidas as seguintes RELAÇÕES TRIGONOMÉTRICAS (entre os elementos mencionadas acima):

RAZÃO 01: SENO DO ÂNGULO \hat{B} – É a razão entre o cateto oposto ao ângulo \hat{B} e a hipotenusa.

$$\text{sen } \hat{B} = \frac{\text{cateto oposto a } \hat{B}}{\text{hipotenusa}}$$

RAZÃO 02: COSSENO DO ÂNGULO \hat{B} – É a razão entre o cateto adjacente ao ângulo \hat{B} e a hipotenusa.

$$\text{cos } \hat{B} = \frac{\text{cateto adjacente a } \hat{B}}{\text{hipotenusa}}$$

RAZÃO 03: TANGENTE DO ÂNGULO \hat{B} – É a razão entre o cateto oposto o adjacente ao ângulo \hat{B} .

$$\text{tg } \hat{B} = \frac{\text{cateto oposto a } \hat{B}}{\text{cateto adjacente a } \hat{B}}$$

De modo análogo podemos definir as razões seno, cosseno e tangente do ângulo agudo \hat{C} .

3- PROPRIEDADES

Observe os valores de seno, cosseno e tangente dos ângulos agudos \hat{B} :

$\text{sen } \hat{B} = \frac{\text{cateto oposto a } \hat{B}}{\text{hipotenusa}} = \frac{b}{a}$	$\text{sen } \hat{C} = \frac{\text{cateto oposto a } \hat{C}}{\text{hipotenusa}} = \frac{c}{a}$
$\text{cos } \hat{B} = \frac{\text{cateto adjacente a } \hat{B}}{\text{hipotenusa}} = \frac{c}{a}$	$\text{cos } \hat{C} = \frac{\text{cateto adjacente a } \hat{C}}{\text{hipotenusa}} = \frac{b}{a}$
$\text{tg } \hat{B} = \frac{\text{cateto oposto a } \hat{B}}{\text{cateto adjacente a } \hat{B}} = \frac{b}{c}$	$\text{tg } \hat{C} = \frac{\text{cateto oposto a } \hat{C}}{\text{cateto adjacente a } \hat{C}} = \frac{c}{b}$

Para dois ângulos complementares \hat{B} e \hat{C} , isto é, $\hat{B} + \hat{C} = 90^\circ$, são válidas as seguintes PROPRIEDADES:

PROPRIEDADE 01: O seno de um ângulo é igual ao cosseno de seu complementar.

$$\text{sen } \hat{B} = \text{cos } \hat{C} \quad \text{ou} \quad \text{sen } \hat{C} = \text{cos } \hat{B}$$

PROPRIEDADE 02: A tangente de um ângulo é igual ao inverso da tangente de seu complementar.

$$\text{tg } \hat{B} = \frac{1}{\text{tg } \hat{C}} \quad \text{ou} \quad \text{tg } \hat{C} = \frac{1}{\text{tg } \hat{B}}$$

Daí vem que:

$$\begin{cases} \text{sen } 30^\circ = \text{cos } 60^\circ \text{ e } \text{sen } 60^\circ = \text{cos } 30^\circ \\ \text{tg } 30^\circ = \frac{1}{\text{tg } 60^\circ} \\ \text{sen } 45^\circ = \text{cos } 45^\circ \\ \text{tg } 45^\circ = \frac{1}{\text{tg } 45^\circ} \end{cases}$$

4- TABELA

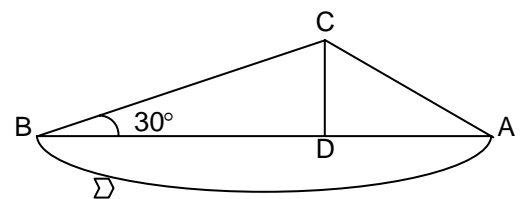
Os valores de seno, cosseno e tangente dos ângulos 30° , 45° e 60° são mostrados na tabela a seguir:

	30°	45°	60°
sen	$\frac{1}{2}$	$\frac{\sqrt{2}}{2}$	$\frac{\sqrt{3}}{2}$
cos	$\frac{\sqrt{3}}{2}$	$\frac{\sqrt{2}}{2}$	$\frac{1}{2}$
tg	$\frac{\sqrt{3}}{3}$	1	$\sqrt{3}$

EXEMPLOS RESOLVIDOS

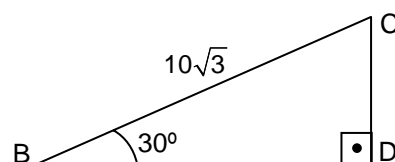
01. (UEPA – PRISE) O mastro (\overline{CD}) de um navio é preso verticalmente por cabos de aço fixo na proa (A) e na popa (B), conforme mostra a figura a seguir. Se o cabo \overline{BC} mede $10\sqrt{3}$ m então, a altura do mastro é:

- $2\sqrt{3}$ m
- $5\sqrt{3}$ m
- $8\sqrt{3}$ m
- $10\sqrt{3}$ m
- $20\sqrt{3}$ m



Resolução:

Destacamos o triângulo BCD retângulo em D:



A razão trigonométrica a ser aplicada é o seno, pois o mastro (\overline{CD}) é o cateto oposto ao ângulo de 30° e o cabo \overline{BC} é a hipotenusa.

$$\text{sen } 30^\circ = \frac{CD}{10\sqrt{3}} \text{ e como } \text{sen } 30^\circ = \frac{1}{2}, \text{ temos:}$$

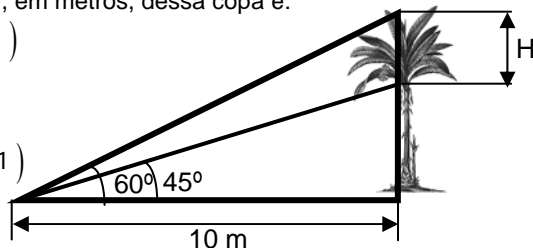
$$\frac{1}{2} = \frac{CD}{10\sqrt{3}} \Rightarrow CD = \frac{10\sqrt{3}}{2}$$

$$2 \cdot CD = 10\sqrt{3} \Rightarrow CD = 5\sqrt{3}$$

Portanto a altura do mastro é $5\sqrt{3}$ m (alternativa b).

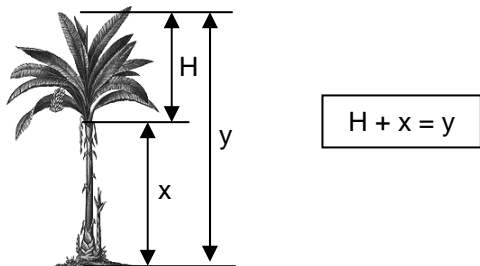
02. (UEPA – PRISE) Um botânico interessado em descobrir qual o comprimento da copa de uma árvore fez as observações indicadas na figura abaixo a partir de um ponto no solo. O comprimento (H), em metros, dessa copa é:

- a) $10(\sqrt{3} - 1)$
- b) 15
- c) $10\sqrt{3}$
- d) $10(\sqrt{3} + 1)$
- e) 30



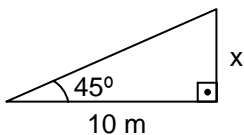
Resolução:

Observe o esquema:



Destacamos os dois triângulos retângulos a seguir:

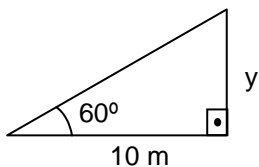
Observe que x representa a medida do tronco da árvore e para calcular este valor aplicamos a tangente de 45° , pois x é o cateto oposto e 10 m é a medida do cateto adjacente.



$$\text{tg } 45^\circ = \frac{x}{10} \text{ e como}$$

$\text{tg } 45^\circ = 1$, temos $1 = \frac{x}{10}$, logo $x = 10$. A medida do tronco da árvore é 10 m.

Observe que y representa a altura da árvore e para calcular este valor aplicamos a tangente de 60° , pois y é o cateto oposto e a medida 10 m é o cateto adjacente.



$$\text{tg } 60^\circ = \frac{y}{10} \text{ e como}$$

$$\text{tg } 60^\circ = \sqrt{3}, \text{ temos } \sqrt{3} = \frac{y}{10}, \text{ logo } y = 10\sqrt{3}.$$

Substituindo x e y na relação $H + x = y$, temos:

$$H + 10 = 10\sqrt{3} \Rightarrow H = 10\sqrt{3} - 10 \Rightarrow H = 10(\sqrt{3} - 1)$$

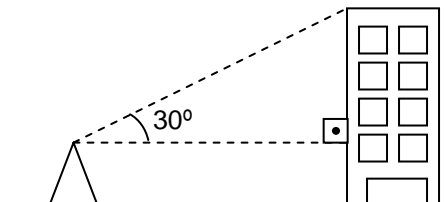
Portanto o comprimento da copa da árvore é $10(\sqrt{3} - 1)$ metros.

EXERCÍCIOS (DESTRUIÇÃO TOTAL)

01. (UFMS-RS) Um estudante de engenharia vê um prédio do campus da UFMS construído em um terreno plano, sob um ângulo de 30° . Aproximando-se do prédio mais 40 m, passa a vê-lo sob um ângulo de 60° . Considerando que a base do prédio está no mesmo nível dos olhos do estudante, então a altura h do prédio é igual a:

- a) $30\sqrt{3}$
- b) $20\sqrt{3}$
- c) 10
- d) $10\sqrt{3}$
- e) 28

02. (UFJF-MG) Um topógrafo foi chamado para obter a altura de um edifício. Para fazer isto, ele colocou um teodolito (instrumento para medir ângulos) a 200 m do edifício e mediu o ângulo de 30° , como indicado na figura a seguir:



Sabendo que o teodolito está a 1,5 m do solo, pode-se concluir que, dentre os valores a seguir, o que melhor aproxima a altura do edifício, em metros, é:

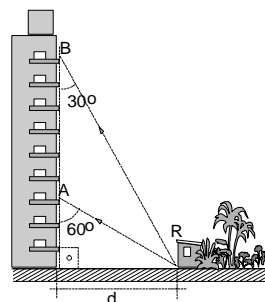
- a) 112
- b) 115
- c) 117
- d) 120
- e) 124

03. (CEFET-PR) A Rua Tenório Quadros e a avenida Teófilo Silva, ambas retilíneas, se cruzam segundo um ângulo de 30° . O posto de gasolina Estrela do Sul se encontra na Avenida Teófilo Silva a 4000 m do citado cruzamento. Portanto, a distância entre o posto de gasolina Estrela do Sul e a rua Tenório Quadros, em quilômetros, é igual a:

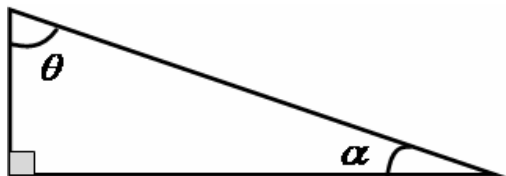
- a) 4
- b) 12
- c) 2
- d) 5
- e) 8

04. (CEFET-PR) Patrik Onom Êtrico, um jovem curioso, observa da janela do seu quarto (A) uma banca de revistas (R), bem em frente ao seu prédio, segundo um ângulo de 60° com a vertical. Desejando avaliar a distância do prédio à banca, Patrik sobe seis andares (aproximadamente 16 metros) até o apartamento de um amigo seu, e passa a avistar a banca (do ponto B) segundo um ângulo de 30° com a vertical. Calculando a distância "d", Patrik deve encontrar, aproximadamente, o valor: (Dados: $\sqrt{2} = 1,4$; $\sqrt{3} = 1,7$)

- a) 8,0 m
- b) 11,2 m
- c) 12,4 m
- d) 13,6 m
- e) 15,0 m



05. (UFSC) Dois pescadores P_1 e P_2 , estão na beira de um rio de margens paralelas e conseguem ver um bote B na outra margem. Sabendo que $P_1P_2=63$ m, os ângulos $\overline{BP_1P_2} = \alpha$ e $\overline{BP_2P_1} = \beta$ e que $\text{tg } \alpha = 2$ e $\text{tg } \beta = 4$, determine a distância (em metros) entre as margens.



$$\text{Sen } \alpha = \text{Cos } \theta$$

$$\text{Cos } \alpha = \text{Sen } \theta$$

$$\text{Tg } \alpha = \text{Cotg } \theta$$

$$\text{Sec } \alpha = \text{Cos sec } \theta$$

$$\text{Cos sec } \alpha = \text{Sec } \theta$$

$$\text{Cotg } \alpha = \text{Tg } \theta$$

Dessa forma:

$$\text{Sen } 47^\circ = \text{Cos } 43^\circ \rightarrow \dots$$

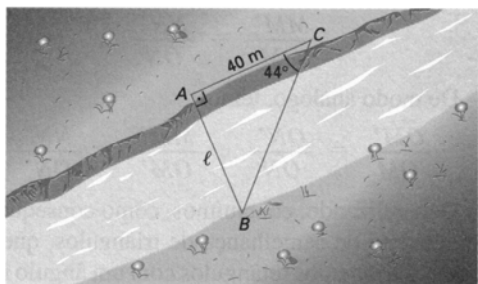
$$\text{Tg } 35^\circ = \text{Cotg } 55^\circ \rightarrow \dots$$

$$\text{Cos sec } 12^\circ = \text{Sec } \theta^\circ \rightarrow \theta = \dots$$

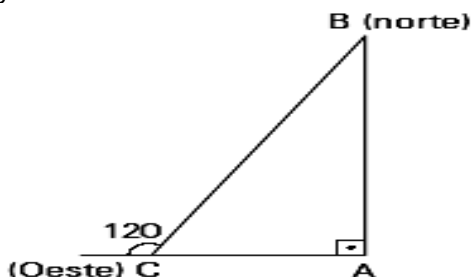
$$\text{Sec } 27^\circ = \text{Cos sec } \theta^\circ \rightarrow \theta = \dots$$

ATIVIDADES

01. Um engenheiro deve medir a largura de um rio. Para isso, fixa um ponto A na margem em que está e um ponto B na margem oposta (conforme figura). A seguir, desloca-se 40 m perpendicularmente à reta \overline{AB} até o ponto C e mede o ângulo \widehat{ACB} , obtendo 44° . Dados $\text{sen } 44^\circ = 0,69$, $\text{cos } 44^\circ = 0,71$ e $\text{tg } 44^\circ = 0,96$, calcule a largura do rio.



02. Um pequeno avião deveria partir de uma cidade A rumo a uma cidade B ao norte, distante 60 quilômetros de A. Por um problema de orientação, o piloto seguiu erradamente rumo ao oeste. Ao perceber o erro, ele corrigiu a rota, fazendo um giro de 120° à direita em um ponto C, de modo que o seu trajeto, juntamente com o trajeto que deveria ter sido seguido, formaram, aproximadamente, um triângulo retângulo ABC, como mostra a figura.



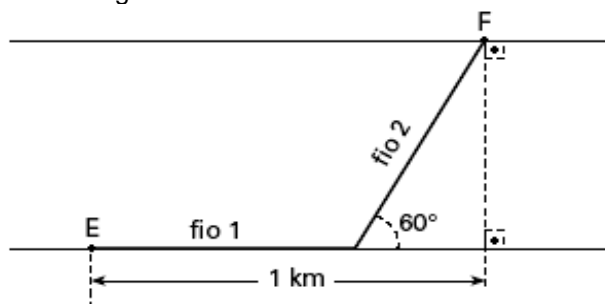
Com base na figura, a distância em quilômetros que o avião voou partindo de A até chegar a B é:

- a) $30\sqrt{3}$ c) $40\sqrt{3}$ e) $60\sqrt{3}$
 b) $80\sqrt{3}$ d) $90\sqrt{3}$

03. Um navio, navegando em linha reta, passa sucessivamente pelos pontos A e B. O comandante, quando o navio está no ponto A, observa um farol num ponto C e calcula o ângulo $\widehat{ACB} = 30^\circ$. Sabendo-se que o ângulo \widehat{ABC} é reto e que a distância entre os pontos A e B é de 6 milhas, de quantas milhas é a distância entre o farol e o ponto B?

- a) $6\sqrt{3}$ milhas
 b) $18\sqrt{3}$ milhas
 c) $2\sqrt{3}$ milhas
 d) $3\sqrt{3}$ milhas
 e) $5\sqrt{3}$ milhas

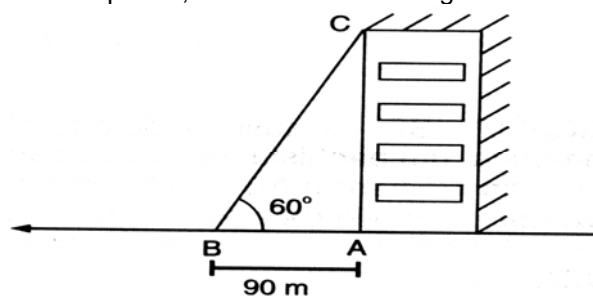
04. Uma estação E, de produção de energia elétrica, e uma fábrica F estão situadas nas margens opostas de um rio de largura $\frac{1}{\sqrt{3}}$ km. Para fornecer energia a F, dois fios elétricos a ligam a E, um por terra e outro por água, conforme a figura.



Supondo-se que o preço do metro do fio de ligação por terra é R\$ 12,00 e que o metro do fio de ligação pela água é R\$ 30,00, o custo total, em reais, dos fios utilizados é:

- a) 28000 c) 18600 e) 24000
 b) 25000 d) 15800

05. Uma pessoa encontra-se num ponto A, localizado na base de um prédio, conforme mostra a figura adiante:



Se ela caminha 90 metros em linha reta, chegará a um ponto B, de onde poderá ver o topo C do prédio, sob um ângulo de 60° . Quantos metros ela deverá se afastar do ponto A, andando em linha reta no sentido de A para B, para que possa enxergar o topo do prédio sob um ângulo de 30° ?

- a) 150 c) 270 e) 310
 b) 180 d) 300